

鎮西学院大学 2025 年度 一般入試

# 英語

注意

- 1. 指示があるまで表紙を開くことはできません。
- 2. 開始の指示があったら、問題冊子と解答用紙に、受験番号と名前を記入してください。
- 3. 解答はすべて解答用紙に記入してください。
- 4. 試験終了後、問題冊子と解答用紙を回収します。

受験番号		氏 名	
------	--	-----	--

問1 ( ) に入るもっとも適切な選択肢を選びなさい。

1. He knew that the Earth ( ) round.  
A. is      B. be      C. was being      D. were
2. I don't have any plans for this Saturday, but next Sunday ( ) my parents.  
A. I visit      B. I am visiting      C. I'm going      D. I was visiting
3. We'll be late unless we ( ) now.  
A. will leave      B. leave      C. don't leave      D. have left
4. I will return your homework as soon as ( ) checking them.  
A. I finish      B. I will finish      C. I finished      D. my finishing
5. I have ( ) there twice.  
A. gone to      B. went      C. been to      D. been
6. It was worth ( ) the US. The food was great and the people were kind.  
A. visited      B. to visit      C. visiting      D. visit
7. ( ) it be true that she bought a new house?  
A. Did      B. Had      C. Has      D. Can
8. You ( ) go to work because you have a fever.  
A. had better not to      B. had not better      C. had better not      D. had not better to
9. If I had eaten lunch more, I ( ) hungry now.  
A. won't be      B. am not      C. wouldn't be      D. wouldn't have been
10. ( ) a little more effort, he could have finished the homework in time.  
A. As      B. By      C. For      D. With
11. Kenji suggested ( ) shopping for clothes.  
A. to go      B. going      C. went      D. gone

12. He talked to me (        ) he were my father.  
A. as if      B. because      C. that      D. when
13. I'm not satisfied (        ) the result.  
A. with      B. in      C. by      D. for
14. The boy was so kind (        ) me to the station.  
A. to take      B. that it takes      C. for to take      D. for taken
15. We enjoyed (        ) time with you tonight.  
A. spending      B. spend      C. to spend      D. spent

問 2 下線部の語句と同様の意味を表す選択肢を選びなさい。

1. He gave up smoking last year.

- A. started      B. continued      C. quit      D. enjoyed

2. I'm looking forward to the weekend.

- A. preparing for      B. excited about      C. scared of      D. forgetting about

3. We ran into our teacher at the supermarket.

- A. met by chance      B. ran towards      C. looked for      D. helped

4. I need to turn down the volume.

- A. increase      B. lower      C. keep      D. change

5. Please fill out this form.

- A. empty      B. complete      C. correct      D. organize

6. He looked up the word in the dictionary.

- A. searched for      B. created      C. learned      D. said

7. Please turn on the lights.

- A. fix      B. move      C. switch on      D. break

8. They are setting up the stage for the concert.

- A. destroying      B. arranging      C. waiting for      D. removing

9. He got over his cold quickly.

- A. recovered from      B. started      C. ignored      D. spread

10. We'll look into the problem tomorrow.

- A. investigate      B. avoid      C. solve      D. forget

11. Can you look after my dog while I'm away?

- A. ignore      B. watch over      C. find      D. play with

12. She's going through a difficult time right now.  
A. avoiding      B. enjoying      C. experiencing      D. finishing
13. Please hand in your homework by Friday.  
A. start      B. finish      C. submit      D. forget
14. He came up with a great idea for the project.  
A. rejected      B. thought of      C. forgot      D. ignored
15. Let's get rid of the old furniture in the living room.  
A. keep      B. remove      C. repair      D. clean

問3 適切な文になるように [ ] 内の語句を並べかえ、解答用紙に書きなさい。  
(文頭に来る単語も小文字で表記してあります。必要に応じて大文字にしてください。)

1. 彼は毎週末、友達と一緒にスポーツをします。  
[plays / he / with / sports / friends / his / every weekend] .
2. 彼女はその仕事に応募することを決めました。  
[decided / she / apply / for / to / the job] .
3. 私たちは先週、面白い映画を見ました。  
[watched / an interesting / last week / we / movie] .
4. 明日は家族と一緒に外食する予定です。  
[going / to eat out / with my family / I / tomorrow / am] .
5. 多くの生徒は間違えることを恐れている。  
[students / of / are / afraid / making / many / mistakes] .
6. あなたは最近、どんな本を読みましたか？  
[have / what / read / book / you / recently] ?
7. 彼は英語を流暢に話すことができます。  
[can / fluently / English / speak / he] .
8. 私たちは、環境を守るために行動を起こす必要があります。  
[to take action / we / protect / need / the environment / in order to] .
9. 彼は自分の意見を表明するのが得意です。  
[is / expressing / good at / his opinions / he] .
10. 知識を広げることは、自己成長につながります。  
[leads / growth / gaining / to / knowledge / personal] .

問 4 次の会話文を完成させるため、( ) に入るもっとも適切な選択肢を選びなさい。

1. Ann: Did you remember to bring your lunch today?  
Kate: Yes, I packed it this ( ).  
A. morning      B. evening      C. lunch box      D. night
2. Mary: I heard the new restaurant in town is fantastic.  
Ken: Yes, I had lunch there the other day, and the food was absolutely ( ).  
A. dreadful      B. delicious      C. messy      D. boring
3. Kim: I'm planning to start a new fitness routine next month.  
Tom: That sounds great! I've heard that setting realistic goals is ( ) for success.  
A. optional      B. crucial      C. irrelevant      D. boring
4. John: I'm not sure what to say in the meeting tomorrow.  
Mike: Just ( ) calm and speak clearly. Everything will be fine.  
A. stay      B. repeat      C. as      D. felt
5. Fred: We're planning to hold a charity event next month.  
Sam: Great! We should make sure to ( ) the invitations early to get a good turnout.  
A. distribute      B. create      C. forget      D. consider

問 5 質問の答えとしてもっとも適切な選択肢を選び、記号で答えなさい。

1. Boy: Did you go to the new café that opened last week?

Girl: Yes, I did. The coffee there is really good!

Boy: I've heard good things about it.

Question: What does the girl think about the new café?

- A. She found the coffee to be bad.
- B. She hasn't tried the café yet.
- C. She thinks the café has nice decorations.
- D. She enjoys the coffee at the new café.
- E. She prefers tea over coffee.

2. Man: I missed the meeting yesterday. Was anything important discussed?

Woman: Yes, they talked about the deadline for the new project.

Man: Oh, I see. I'll need to catch up.

Question: What was the main topic of the meeting that the man missed?

- A. The budget for the next quarter.
- B. Project deadlines and schedules.
- C. Upcoming company events.
- D. New employee introductions.
- E. Office renovation plans.

3. Woman: Are you planning to join the student exchange program next year?

Man: Yes, I would like to experience a different culture.

Woman: I think it will be an amazing opportunity.

Question: What is the man's reason for joining the exchange program?

- A. He wants to meet new people.
- B. He has an interest in studying foreign languages.
- C. He wants to experience a different culture.
- D. He is looking for job opportunities abroad.
- E. He wants to improve his grades.

4. Woman: Have you seen the new policies about remote work?  
Man: Yes, I think they'll make it easier for employees to balance work and life.  
Woman: I agree. Flexibility is so important.  
Question: What is the main benefit mentioned about the new remote work policies?
- A. They allow for more vacation time.
  - B. They increase productivity at work.
  - C. They make it easier to balance work and personal life.
  - D. They reduce the number of meetings.
  - E. They provide more opportunities for promotions.
5. Woman: Did you attend the seminar on cybersecurity last week?  
Man: Yes, the speaker emphasized securing personal information online.  
Woman: That's something everyone should be aware of, especially in today's digital age.  
Question: What was the main focus of the seminar mentioned?
- A. The benefits of using social media for business.
  - B. New developments in software engineering.
  - C. Strategies for securing personal information online.
  - D. The future of artificial intelligence.
  - E. How to build a successful online brand.

問 6 次の英文を読んで、以下の質問の答えとしてもっとも適切な選択肢を選び、記号で答えなさい。

### The 2024 Paris Olympics: A Celebration of Sports and Sustainability

The 2024 Paris Olympics is set to be one of the most exciting and **innovative** sporting events in history. Scheduled to take place from July 26 to August 11, 2024, this will be the third time Paris hosts the Summer Olympics, following the 1900 and 1924 games. The event will bring together athletes from all over the world to compete in various sports, **showcasing** not only their talents but also the spirit of unity and peace that the Olympics represents.

One of the main goals of the 2024 Paris Olympics is sustainability. The organizers have made it clear that they want these games to be the most eco-friendly in history. Paris 2024 aims to have a **minimal** impact on the environment by reducing carbon **emissions** and promoting sustainable practices. For example, many of the **venues** for the events are existing structures that have been renovated, rather than building new ones. This approach reduces the need for new construction, which often leads to increased pollution and waste.

Additionally, the use of clean energy is a significant focus of the Paris Olympics. The city plans to power the Olympic venues with renewable energy sources, such as solar and wind power. This effort not only helps to reduce the **carbon footprint** of the games but also sets an example for future international events. Moreover, the organizers are encouraging visitors to use public transportation, bikes, or even walk to the venues, further reducing the environmental impact.

Another highlight of the 2024 Paris Olympics is the inclusion of new sports. Breaking (also known as breakdancing) will make its Olympic **debut**, reflecting the dynamic and evolving nature of the games. Alongside traditional sports like gymnastics and swimming, these new sports are expected to draw a younger audience and increase global interest in the event.

In conclusion, the 2024 Paris Olympics promises to be a **remarkable** event, not just for the thrilling sports competition but also for its commitment to sustainability. By focusing on eco-friendly practices and including innovative sports, the Paris Olympics aims to leave a positive legacy for future generations.

#### Vocabulary:

innovative 革新的な、 showcasing 披露する、 minimal 最小限、  
emissions 排出、 venue 会場、 carbon footprint 二酸化炭素排出量、  
debut 初登場 / デビュー、 remarkable 注目すべき / 著しい

1. When is the 2024 Paris Olympics scheduled to take place?
  - A. From June 26 to July 11, 2024
  - B. From July 26 to August 11, 2024
  - C. From August 26 to September 11, 2024
  - D. From May 26 to June 11, 2024
2. What is one of the main goals of the 2024 Paris Olympics?
  - A. To build new sports venues across Paris
  - B. To set a record for the number of participating athletes
  - C. To make the event as eco-friendly as possible
  - D. To introduce only traditional sports in the Olympics
3. How does the Paris 2024 Olympics plan to reduce its environmental impact?
  - A. By encouraging people to drive to the venues
  - B. By using existing structures for events
  - C. By constructing new buildings
  - D. By increasing the number of private cars
4. What new sport will be introduced in the 2024 Paris Olympics?
  - A. Skateboarding
  - B. Karate
  - C. Breaking (breakdancing)
  - D. Surfing
5. Why is the 2024 Paris Olympics significant for future international events?
  - A. It will have the most spectators in Olympic history.
  - B. It will introduce more sports than any previous Olympics.
  - C. It will set an example in sustainability and environmental practices.
  - D. It will be the last time Paris hosts the Olympics.

問 7

下の **QUESTION** について、あなたの意見とその理由を 2 つ英語で解答用紙に書きなさい。

※ 語数の目安 : 80 語～100 語

**QUESTION**

Today, some schools are using tablets and computers instead of textbooks. Do you think this change will benefit students in the long run?

鎮西学院大学 2025 年度 一般入試

# 日本史

注意

- 1. 指示があるまで表紙を開くことはできません。
- 2. 開始の指示があったら、問題冊子と解答用紙に、受験番号と名前を記入してください。
- 3. 解答はすべて解答用紙に記入してください。
- 4. 試験終了後、問題冊子と解答用紙を回収します。

受験番号		氏 名	
------	--	-----	--

2025年度 一般選抜A日程入学者試験「地理歴史（日本史）」試験問題

問題1 平安時代に書かれた以下の資料を読んで問に答えなさい。

寛仁二年<sup>1)</sup>十月十六日 乙巳、今日、女御藤原威子を以って皇后に立つるの日なり。・・・(中略)・・・太閤<sup>2)</sup>、下官を招き呼びて云く、「和歌を読まんと欲す。必ず和す<sup>3)</sup>べし」者。答えて云く、「何ぞ和し奉らざんや」と。又云く、「誇りたる歌になむ有る。但し宿構<sup>4)</sup>に非ず」者。(1)「此の世をば我が世とぞ思ふ 望月の かけたることも 無しと思へば」。余申して云く、「御歌優美なり。酬答<sup>5)</sup>に方無し。満座<sup>6)</sup>只此の御歌を誦すべし<sup>7)</sup>」と。

【注】 1) 1018年      2) 前摂政・関白の唐名      3) 和歌をよむ  
4) 事前につくっていたもの      5) 返歌をよむ      6) 一同、皆で  
7) 唱和しましょう

問1 (1)の和歌は、藤原氏の栄華を歌ったものである。誰が詠んだ和歌か答えなさい。

問2 問1の人物の長男で、後一条・後朱雀・後冷泉3天皇の約50年わたり、摂政・関白をつとめ、父と共に藤原氏の全盛時代を築いたのは誰か、答えなさい。

問3 この資料は藤原実資によって書かれた。この資料名を答えなさい。

問4 問2の人物は、現在の京都府宇治市に寺院を建立し、その阿弥陀堂が写真1である。写真1の名称を次の中から番号で答えなさい。

【 写真1 】

- ① 法界寺阿弥陀堂
- ② 円覚寺舍利殿
- ③ 慈照寺東求堂
- ④ 平等院鳳凰堂
- ⑤ 東大寺法華堂




問5 次の文章の（ア）（イ）は誰か、人物名を答えなさい。

藤原氏の全盛時代の著作物で、一条天皇の皇后定子に仕えた（ア）が宮廷生活の体験を随筆風に記した『枕草子』や同じく一条天皇の中宮彰子に仕えた（イ）が宮廷貴族の生活を題材にした大作である『源氏物語』は国文学の最高傑作とされている。

問題2 以下は江戸時代のある都市に関する設問である。問に答えなさい。

問1 1865（慶応元）年、イギリス人のある貿易商がこの地に蒸気機関車を持ち込み、図1にあるように、数百メートルの区間で、客車に人を乗せて走らせた（ただし、営業運転ではない）。現在、この地には写真2の石碑が建っている。この地とはどこか、都市名を答えなさい。

【 図1 】



【 写真2 】

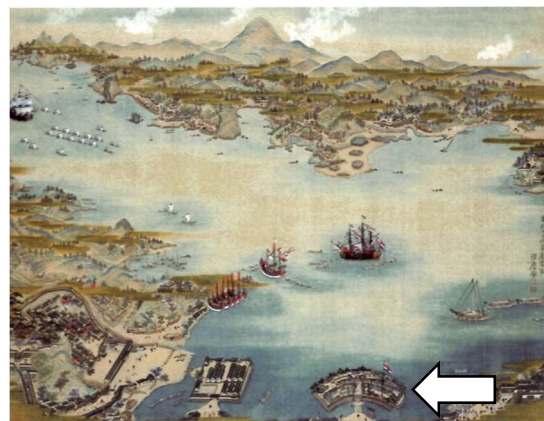


問2 （問1よりさかのぼること）1853（嘉永6）年、アメリカ東インド艦隊司令長官ペリーが黒船4隻を率いて浦賀に来航し開国を要求したが、同年ロシア使節も問1の地に来航し開国を要求している。このロシア使節はその際、蒸気機関車の模型も持参したという。このロシア使節とは誰か、答えなさい。

問3 （問2よりさかのぼること）1808（文化8）年、イギリスの軍艦が問1の地の港に侵入し、オランダ商館員を人質にして、薪水・食料を強要して退去した。この事件を何というか、答えなさい。

問4 （問3よりさらにさかのぼること）1637（寛永14）年におこった島原の乱を鎮圧した江戸幕府は、ポルトガル船の来航を禁止し、平戸にあったオランダ商館を図2の矢印（←）にある人工島に移し、貿易国をオランダと中国に限定して鎖国を行った。

【 図2 】



（A）この人工島を何というか、答えなさい。

（B）鎖国をはじめた幕府の将軍は誰か、答えなさい。

問5 問4の図2は遠近法を取り入れて描かれている。描いた人物名を答えなさい。

問題3 以下の設問で、正しい答えをア～ウのうちから一つ選びなさい。

問1 2世紀の終わりごろ、倭国（日本）は争乱が起こっていたが、邪馬台国の卑弥呼を女王として立てると、争乱がおさまった。そのことが書かれている中国の書物は何か。

ア.『漢書』地理志      イ.『後漢書』東夷伝      ウ.『魏志』倭人伝

問2 女性初の天皇で、蘇我馬子や厩戸王（聖徳太子）と協力して国家組織の形成を進めた天皇は誰か。


ア. 推古天皇      イ. 皇極天皇      ウ. 持統天皇

問3 710（和銅3）年、元明天皇は都を藤原京から奈良盆地の北部に遷都した。この都を何というか。

ア. 平城京      イ. 長岡京      ウ. 平安京

問4 写真3は元寇の沈没船の一部である。  
元と戦った文永の役、弘安の役のときの  
鎌倉幕府の執権は誰か。

【 写真 3 】



ア. 北条時頼  
イ. 北条時宗  
ウ. 北条貞時

問5 念仏（南無阿弥陀仏）をとさえれば死後は極楽浄土に往生できるという専修念仏の教えを説いて浄土宗の開祖となったのは誰か。

ア. 法然      イ. 親鸞      ウ. 日蓮

問6 幕府、院政、摂政・関白を否定して、天皇への権限集中を図った「建武の新政」を行った天皇は誰か。

ア. 後嵯峨天皇      イ. 後醍醐天皇      ウ. 後深草天皇

問7 室町時代の北山文化を代表する鹿苑寺金閣を造営したのは誰か。

ア. 足利義満      イ. 足利義政      ウ. 足利義昭

問 8 1575（天正 3）年、織田信長が鉄砲を大量に用いた戦法で、甲斐の戦国大名である武田勝頼を破った戦いを何と言うか。

ア. 桶狭間の戦い      イ. 姉川の戦い      ウ. 長篠合戦

問 9 1582（天正 10）年、ローマ教皇のもとに天正遣欧使節を派遣したキリシタンの 3 大名は大友義鎮（宗麟）、有馬晴信ともう一人は誰か。

ア. 大内義隆      イ. 大村純忠      ウ. 小西行長

問 10 図 3 は、1804（文化元）年、ナポレオンがフランスの皇帝になった戴冠式の様子である。この年、日本で起こったことは何か。

ア. ロシア使節のラクスマンが、漂流民であった大黒屋光太夫を連れて根室に来航し通商を求めた。

イ. ロシア使節のレザノフが、ラクスマンが持ち帰った入港許可証とロシア皇帝の親書を持って長崎に来航した。

ウ. オランダ商館のドイツ人医師シーボルトが、帰国の際、持ち出し禁止の日本地図を持っていたために国外追放処分となるというシーボルト事件が起きた。

【 図 3 】



問題4 下記の史料と文章を読んで、以下の問いに答えなさい。

第一條 締約國ハ本條約ノ規定ニ從ヒ各自ノ海軍軍備ヲ制限スヘキコトヲ約定ス  
第二條 締約國ハ第二章第一節ニ掲クル主力艦ヲ各自保有スルコトヲ得本條約實施ノ上ハ合衆國、英帝國及日本國ノ既成又ハ建造中ノ他ノ一切ノ主力艦ハ第二章第二節ノ規定ニ從ヒ之ヲ處分スヘシ  
第四條 各締約國ノ主力艦合計代換噸數ハ基準排水量ニ於テ合衆國五十二萬五千噸、英帝國 五十二萬五千噸、佛蘭西國十七萬五千噸、伊太利國十七萬五千噸、日本國（ ① ）噸ヲ超ユルコトヲ得ス  
第七條 各締約國ノ航空母艦合計噸數ハ基準排水量ニ於テ合衆國十三萬五千噸、英帝國十三萬五千噸、佛蘭西國六萬噸、伊太利國六萬噸、日本國（ ② ）噸ヲ超ユルコトヲ得ス

この史料は第一次世界大戦後において、国際協調の成果とされた（ ③ ）の一部であり、ヴェルサイユ体制とともに戦間期の国際秩序を形成することとなった。同条約を締結した会議は（ ④ ）と呼ばれ、アメリカ主導により開催された。この会議には（ ⑤ ）らが日本首席全権委員として出席した。（ ④ ）では太平洋に関する国際条約として（ ⑥ ）も締結された。同条約によって日本は（ ⑦ ）を破棄させられた。さらに（ ④ ）では中国に関する国際条約として（ ⑧ ）が締結され、中国の（ ⑨ ）の尊重とともに（ ⑩ ）が約束された。この条約に基づいて日本は（ ⑪ ）の權益を放棄させられた。

問1 （ ① ）（ ② ）に入る言葉を以下のア～エのうちからそれぞれ選びなさい。

ア. 八萬一千噸      イ. 十二萬五千      ウ. 三十一萬五千      エ. 五十萬五千

問2 上記文章中の（ ③ ）～（ ⑪ ）に入る適語を以下のア～シの中から選び、記号で答えなさい。

ア. 加藤友三郎	イ. 西園寺公望	ウ. 九カ国条約	エ. 四カ国条約
オ. 遼東半島	カ. 山東半島	キ. 門戸開放と機会均等の原則	
ク. ワシントン海軍軍備制限条約	ケ. 領土と主権	コ. 日英同盟	
サ. ワシントン会議	シ. 日伊同盟		

問3 （ ⑥ ）の条約で定められた太平洋に関する締結国が守るべき原則を20字以内で述べなさい。

問題5 第2次世界大戦後の占領期に関する次の文章を読んで、以下の問いに答えなさい。

1947(昭和22)年4月、日本国憲法の下での総選挙と参議院選挙がおこなわれた。衆議院では片山哲を党首とした(①)が第一党となったものの過半数を獲得した政党はなく、芦田均の(②)や三木武夫の(③)の協力により片山哲内閣が6月に発足した。同内閣が与党内部の対立のため退陣すると、芦田均が同じ3党連立内閣を組織し中道政治をすすめたが、1948(昭和23)年10月、汚職疑惑(昭和電工事件)により総辞職することとなった。その後、第二党の(④)を与党とする第2次吉田茂内閣が発足した。(④)は1949(昭和24)年1月の総選挙で過半数を獲得し、以後、吉田が1954(昭和29)年まで内閣を率いることとなった。

第2次吉田内閣が発足した1949年には(⑤)が成立した。翌年(⑥)が始まると、GHQは日本占領政策を(⑦)から(⑧)に転換し、(⑨)に踏み切り日本政府に(⑩)の設置などを指示した。

問1 文中の空欄(①)～(④)に入る語句の組み合わせとして正しいものを以下の(1)～(4)の中から選びなさい。

- |     |     |     |     |     |
|-----|-----|-----|-----|-----|
| (1) | ①－ア | ②－ウ | ③－イ | ④－エ |
| (2) | ①－エ | ②－ア | ③－ウ | ④－イ |
| (3) | ①－イ | ②－エ | ③－ア | ④－ウ |
| (4) | ①－ウ | ②－イ | ③－エ | ④－ア |

ア：国民協同党	イ：日本社会党	ウ：民主自由党	エ：民主党
---------	---------	---------	-------

問2 下の語群から文中の空欄(⑤)～(⑩)に入る適語を選んで、記号で答えなさい。

カ. 非軍事化	キ. 冷戦	ク. 日本の再軍備	ケ. 中華人民共和国
コ. 警察予備隊	サ. 北朝鮮	シ. 朝鮮戦争	ス. 単独講和
セ. 経済復興を優先し同盟に組み込むこと	ソ. 全面講和		
タ. 保安隊・警備隊			

問3 GHQが日本占領政策を転換し(⑨)に踏み切った理由を60字以内で書きなさい。

# 世界史

注意

- 1. 指示があるまで表紙を開くことはできません。
- 2. 開始の指示があったら、問題冊子と解答用紙に、受験番号と名前を記入してください。
- 3. 解答はすべて解答用紙に記入してください。
- 4. 試験終了後、問題冊子と解答用紙を回収します。

受験番号		氏 名	
------	--	-----	--

## 2025 年度一般入試「世界史」

問題1 次のアフガニスタンの独立に関する記述の空欄①～⑤に最も適する語句を下記の解答群から選び、記号で答えなさい。(10 点)

アフガニスタンでは、19 世紀のなかごろ、( ① ) が ( ② ) の支援のもと、アフガニスタンに侵攻したが、( ③ ) の干渉でアフガニスタンの独立を認めた。その後 19 世紀後半に ( ③ ) との ( ④ ) の結果、アフガニスタンは ( ③ ) の保護国となった。しかし、20 世紀前半に起こった ( ⑤ ) の結果、( ③ ) の支配から脱することができた。

[解答群]

あ フランス      い イギリス      う ロシア      え 第2次アフガン戦争      お イラン  
か スペイン      き 第3次アフガン戦争      く ドイツ      け 第1次アフガン戦争      こ イラク

問題2 次のシルクロードに関する記述の空欄①～⑤に最も適する語句を下記の解答群から選び、記号で答えなさい。(10 点)

「オアシスの道」は東アジア・西アジア・地中海域・南アジアの諸文化圏を結び、さまざまな重要な文物が、この道を通して伝わり、ソグド人やイスラム商人等により交易が盛んにおこなわれ、絹の取引が盛んであったことから「シルクロード」とも呼ばれる。また数々の歴史上著名な人物が、この道を利用して諸文化圏のあいだを来住した。前漢では武帝が ( ① ) を西域に派遣し、後漢では西域都護 ( ② ) が甘英を大秦国（ローマ）に派遣した。また、東晋の ( ③ ) はこの道でインドへ赴き、7 世紀前半インドをおとずれてナーランダー僧院で仏教を研究した唐僧 ( ④ ) はこの道を往復した。13 世紀にはフビライに仕えたヴェネツィアの商人 ( ⑤ ) もこの道で中国に來訪した。

[解答群]

あ 玄奘      い 法顕      う マルコ・ポーロ      え 班超      お 張騫

問題3 次の韓国に関する記述の空欄①～⑤に最も適する語句を下記の解答群から選び、記号で答えなさい。(10点)

2024年12月3日夜韓国の尹錫悦大統領は、国民に向けて緊急のテレビ演説を行い、「非常戒厳を宣布する」と発表した。これに対して韓国国会は4日未明、非常戒厳の解除を求める決議案を可決し、尹大統領は同日朝、解除すると発表した。今回の「戒厳令」は1987年の( ① )後、初めてのことである。

( ① )に至るまで韓国では長らく軍事政権が続いた。第2次世界大戦後、韓国では初代大統領( ② )が民主化運動で失脚した後、短期の大統領が続いたが、その後1963年のクーデターによって、軍人だった( ③ )の( ④ )が敷かれた。( ③ )は強権的な政治を行っていたが1979年に暗殺された。( ③ )大統領暗殺後の混乱の後、1980年には軍人だった( ⑤ )氏が大統領に就き、激しくなっていた労働争議や学生デモに対処するためとして戒厳令を出した。

[解答群]

あ 全斗煥      い 朴正熙      う 李承晩      え 独裁政権      お 民主化

問題4 次のロシアのシベリア進出に関する記述の空欄①～⑤に最も適する語句を下記の解答群から選び、記号で答えなさい。(10点)

16世紀半ばにカザン=ハン国を攻略したことをきっかけとして、ロシアはヴォルガ川を越えて東方への領土の拡大を本格的に開始した。ロシアの商人やコサックは毛皮を求めてシベリアを横断し、やがて( ① )に到達した。領土拡大に伴って、ロシアには清朝と勢力範囲を調整する必要性が生じ、1727年に結ばれたキャプタ条約で( ② )北辺における露清間の国境が定められた。( ③ )との間では樺太(サハリン)や千島列島が係争の対象となり、両国は1855年に( ④ )を締結するに至った。さらに、ロシアはシベリアを東進し、19世紀末には( ⑤ )大陸に植民地を築いた。

[解答群]

あ 日本      い 日露和親条約      う オホーツク海      え アメリカ      お モンゴル

問題5 次の中国の国共内戦に関する記述の空欄①～⑤に最も適する語句を下記の解答群から選び、記号で答えなさい。(10点)

最近、中国と台湾の緊張関係が話題になっているが、第二次世界大戦後、1947年に政権を握っていた( ① )と( ② )の内戦即ち国共内戦が始まった。結局、多数の農民の支持を獲得した中国( ② )が内戦に勝利し、1949年、共産党による( ③ )が成立し、( ④ )が( ③ )の主席に就任した。一方、負けた( ⑤ )の( ① )は台湾に逃れ、台湾島を領土にして存続することになった。

[解答群]

あ 中華人民共和国	い 毛沢東	う 国民党	え 蒋介石	お 共産党
-----------	-------	-------	-------	-------

問題6 次のオスマン帝国の拡大に関する記述の①～⑩に最も適する語句を下記の解答群から選び、記号で答えなさい。(20点)

16世紀になると、西アジアで、エジプト・シリアを統治するマムルーク朝、バルカン半島・アナトリア西部を支配するオスマン帝国、イラン高原に台頭したサファヴィー朝が争った。オスマン帝国は第9代スルタン( ① )のもとでサファヴィー朝と争い、アナトリア東部を支配下に入れた。さらに帝国は南進し、( ② )年に( ③ )を滅ぼしてシリアや( ④ )を領有するとともに、それまで( ③ )が保持していたイスラム教の二聖都であるメッカと( ⑤ )の支配権を獲得した。

オスマン帝国は、つづく第10代スルタン( ⑥ )のもとで、さらに積極的な領土拡大を推し進め、最盛期をむかえる。彼はハンガリーを征服し、ハブスブルク家が統治するオーストリアに侵攻し、1529年に( ⑦ )包囲戦(第1次)をおこなった。以後、トルコの脅威としてヨーロッパの国際関係に影響を与え続けた。また、新たに海軍を編制し、1538年の( ⑧ )でスペイン・ヴェネツィア・ローマ教皇の連合艦隊を敗退させ、北アフリカに至る地中海の制海権を得た。しかしながら、( ⑨ )年にレバントの海戦でスペイン・ヴェネツィア・ローマ教皇などに敗れ、地中海で持っていた制海権が一時的に弱まることになった。すぐにオスマン帝国は海軍を再建し、1574年には( ⑩ )を征服し、地中海の制海権を回復させていく。

あ メフメト2世	い セリム1世	う セリム2世	え 1516	お 1517
か 1521	き マムルーク朝	く セルジューク朝	け ザイヤーン朝	こ エチオピア
さ エジプト	し モロッコ	す メディナ	せ エルサレム	そ イスタンブール
た ムラト2世	ち メフメト1世	つ スレイマン1世	て ウィーン	と ブダペスト
な プラハ	に プレヴェザの海戦	ぬ ジェルバ島の戦い	ね チェシメの海戦	の 1571
は 1569	ひ 1560	ふ アチェ	へ トレムセン	ほ チュニス

問題7 1968年のアメリカの政治情勢について次にあげるキーワードをすべて用いて350字程度で述べなさい。(30点)

[キーワード]

1965年 ベトナム戦争 テト攻勢 ジョンソン大統領 キング牧師 ロバート＝ケネディ  
北爆の全面停止

鎮西学院大学 2025 年度 一般入試

# 公 民

注意

- 1. 指示があるまで表紙を開くことはできません。
- 2. 開始の指示があったら、問題冊子と解答用紙に、受験番号と名前を記入してください。
- 3. 解答はすべて解答用紙に記入してください。
- 4. 試験終了後、問題冊子と解答用紙を回収します。

受験番号		氏 名	
------	--	-----	--

2025 年度 入学試験「公民」問題用紙

第 1 問 次の文章が正しいければ○を、誤っていれば×をつけよ。

1. 公的扶助は、失業、傷病、業務上の災害にあったときや、加齢により働くことが困難になったときなど、必要に応じて所得やサービスの給付を受けられる制度である。
2. 社会福祉は、国が生活に困窮するすべての国民に対し、最低限の生活を保障するために、必要な金銭や現物を支給する支援制度である。
3. 社会保険は、社会生活を営む上で、適切な保護や支援が必要な幼児や児童、障害者、高齢者などに対し、各種社会福祉に関する保護法に基づき、施設やサービスを提供している。
4. グローバル化の進展は、ICT（情報通信技術）の進歩と普及のなかで活発な国際資本移動をもたらしている。
5. 2019 年に中国武漢で確認された新型コロナウイルス感染症が、2020 年に世界中に広がり、パンデミック化したが、経済のグローバル化が原因とは言えない。

第 2 問 下記の A～D に当てはまる語句を(1)～(3)より選べ。

企業は、法律上の [A ] である。企業の種類には、国や地方公共団体が出資し、経営する [B ] と、民間人が営利のために出資し、経営する [C ]、および、政府と民間の共同出資による [D ] がある。

A に入る語句を下の(1)～(3)より選べ

- (1) 組合
- (2) 協会
- (3) 法人

B に入る語句を下の(1)～(3)より選べ

- (1) 大企業
- (2) 公企業
- (3) 中小企業

C に入る語句を下の(1)～(3)より選べ

- (1) 私企業
- (2) 株式会社
- (3) 合同会社

D に入る語句を下の(1)～(3)より選べ

- (1) 合資会社
- (2) 合名会社
- (3) 公私合同企業

第3問 下記のA～Cに当てはまる語句を(1)～(3)より選べ。

日本国憲法第28条では、団結して組合を決定する権利として〔A 〕、団体交渉を要求する権利として〔B 〕、そしてストライキなどの団体行動をおこなう権利として〔C 〕の労働三権を保証している。

Aに入る語句を下の(1)～(3)より選べ

- (1) 団結権
- (2) 勤労権
- (3) 生存権

Bに入る語句を下の(1)～(3)より選べ

- (1) 団体交渉権
- (2) 幸福追求権
- (3) 自由権

Cに入る語句を下の(1)～(3)より選べ

- (1) 団体交渉権
- (2) 団結権
- (3) 団体行動権

第4問 下記のA～Cに当てはまる語句を(1)～(3)より選べ。

日本は、アジア諸国との関係強化に力を入れてきた。韓国とは〔A 〕、中国とは〔B 〕を締結している。一方、〔C 〕で、北朝鮮は日本人拉致を公式に認めた。2004年にかけて拉致被害者の一部の帰国が実現した。

Aに入る語句を下の(1)～(3)より選べ

- (1) 日韓平和協定
- (2) 日韓友好条約
- (3) 日韓基本条約

Bに入る語句を下の(1)～(3)より選べ

- (1) 日中友好条約
- (2) 日中平和条約
- (3) 日中平和友好条約

Cに入る語句を下の(1)～(3)より選べ

- (1) 日朝首脳会議
- (2) 日朝実務者会談
- (3) 日朝首脳会談

第5問 下記のA～Cに当てはまる語句を(1)～(3)より選べ。

現在、食料やエネルギーの安全保障や災害対策など国内の安全保障も含む、[A ]の理念が掲げられている。一方、国連では、病気、貧困、環境破壊等によって、生存が脅かされている個々の人々に目を向ける[B ]という考え方を重視し、[C ]を定めるなど、国家の枠組みをこえた取り組みを推進する動きがある。

Aに入る語句を下の(1)～(3)より選べ

- (1)信頼醸成措置
- (2)総合安全保障
- (3)国際平和支援法

Bに入る語句を下の(1)～(3)より選べ

- (1)日米地位協定
- (2)平和的生存権
- (3)人間の安全保障

Cに入る語句を下の(1)～(3)より選べ

- (1)CTBT
- (2)PKO
- (3)SDGs

第6問 下記のA～Cに当てはまる語句を(1)～(3)より選べ。

国家は[A ]とよばれる一定の領域・国民・主権をもち、[B ]とよばれる。主権国家が相互に独立し、原則、平等なものとして尊重される社会を[C ]という。

Aに入る語句を下の(1)～(3)より選べ

- (1)平和の三要素
- (2)人間の安全保障
- (3)国家の三要素

Bに入る語句を下の(1)～(3)より選べ

- (1)主権国家
- (2)平和主義
- (3)集団安全保障

Cに入る語句を下の(1)～(3)より選べ

- (1)国家
- (2)国際社会
- (3)グローバル社会

第7問 民主政治と世論に関する記述として適当なものを、次の(1)～(4)のうちから一つ選べ。

- (1)新聞・テレビ等のマスメディアは、民主政治における世論の形成に、ほとんど影響を与えていない。
- (2)インターネットメディアは、民主政治における世論の形成に、ほとんど影響を与えていない。
- (3) SNS などのソーシャルメディアは、民主政治における世論の形成に、ほとんど影響を与えていない。
- (4)新聞・テレビ等のマスメディア、ニュースサイトやキュレーションサイト等のインターネットメディア、SNS などのソーシャルメディアは、民主政治における世論の形成に大きな影響を与えている。

第8問 日本の裁判制度に関する記述として適当なものを、次の(1)～(4)のうちから一つ選べ。

- (1)裁判所には、最高裁判所と下級裁判所（高等裁判所・地方裁判所・簡易裁判所）がある。
- (2)特許権などの知的財産権の一部を扱う家庭裁判所がある。
- (3)判決に不服な人は、上級裁判所に対して裁判のやり直しを求める上訴ができる。
- (4)最高裁判所の裁判官については、国民主権の観点から国民審査の制度を作る必要がある。

第9問 日本の裁判制度に関する記述として適当なものを、次の(1)～(4)のうちから一つ選べ。

- (1)罪刑法定主義に基づいておこなわれ、憲法では刑事被告人に対して、特別な事情がある場合、弁護人を依頼する権利を認めている。
- (2)犯罪被害者の人権を守るため、犯罪被害者参加制度が導入された。
- (3)日本司法支援センター（法テラス）は、短期間での審理をめざすために設立された。
- (4)公判前整理手続きは、紛争の解決に必要な情報やサービスの提供をおこなうものである。

第10問 日本の消費者の権利と自立に関する記述として誤っているものを、次の(1)～(4)のうちから一つ選べ。

- (1)消費者と企業の情報の非対称性や交渉力の格差をふまえ、消費者の支援をすることで自立を促す法律が消費者基本法である。
- (2)契約をめぐるトラブルから消費者を守るための消費者契約法では、不当な勧誘による契約の取り消しと不当な契約条項の有効性が規定されている。
- (3)消費者の利益を守るために特定商取引法や景品表示法がある。
- (4)消費者契約法の下、消費者団体訴訟制度の整備が課題である。

第 11 問 日本国憲法に関する記述として適当なものを、次の(1)～(4)のうちから一つ選べ。

- (1) 個人の尊重について規定しているが、法の下での平等に関する規定はなされていない。
- (2) 国民主権を規定しているが、議会制民主主義については確立されていない。
- (3) 立憲主義を採用し、天皇主権の原理に立っている。
- (4) 立憲主義を採用し、国民主権・基本的人権の尊重・平和主義を特徴としている。

第 12 問 公共的な空間を形成するための考え方に関する記述として誤っているものを、次の(1)～(4)のうちから一つ選べ。

- (1) J. ベンサムは、行為決定の判断基準として、「最大多数の最大幸福」を主張した。
- (2) J. S. ミルは、快楽を精神的快楽と物質的快楽に分けて考えなかった。
- (3) I. カントは、行為をなすときに「困っている人を助けるべき」など、良心の声に従うことがあることに着目した。
- (4) A. センは、どのような立場にある人も、自分がしたいことができる潜在能力が実現されるべきであると語った。

第 13 問 伝統や文化とのかかわりに関する記述として誤っているものを、次の(1)～(4)のうちから一つ選べ。

- (1) 日本人の伝統的な自然観は、豊かな自然や四季の移り変わりをもつ風土のなかで育まれた。
- (2) 人々はカミに対して収穫の恵みを感謝し、災厄から逃げることを願った。こうした神をまつる儀礼として仏教が成立した。
- (3) 古代日本の人々は、「八百万の神」という言葉が示すように、自然界のあらゆる事物や現象に精霊が宿っていると考え、それらを神として崇拝の対象にしていた。
- (4) 古代日本の人々は清き明き心（清明心）という透きとおった心のあり方を尊んだ。

第 14 問 次の文章の空欄に適切な語句を書きなさい。

いくらで、どれだけの量の財やサービスが売買されるかについては、原則として、市場における需要と〔①〕との関係によって決まることになる。このようなことから、アダム＝スミスは、価格の自動調節機能のしくみによって、政府が経済活動に参加しなくても、〔②〕に導かれて、社会の調和がもたらされることになる」と主張した。その際、金融活動がなされるが、金融には、貸し手が借り手に資金を直接融通する〔③〕と、両者の間で金融機関が仲立ちをする〔④〕がある。国家の金融機関の中核として、通貨供給をおこない、金融政策を実施する銀行の機能が重要になる。この機能を果たす国家レベルの銀行を〔⑤〕という。日本の場合、現金通貨は〔⑥〕が発行する紙幣（日本銀行券）と、政府が発行する硬貨に分かれている。

アメリカにおいて住宅ブームが生じ、住宅バブルで価格が上昇すれば、住宅の担保価格が上がり優遇金利に借り換えできると宣伝され、本来ローンが組めない低所得者層までマイホームを購入することになった。その後、住宅ブームが去るに従い、住宅価格が下落した。そのことで、サブプライムローンからプライムローンへの借り換えができなくなったため、返済不能者が急増し、住宅ローンの不良債権化によって、アメリカの〔⑦〕が暴落した。つまり、サブプライムローン問題が発生した。この影響を受けた金融機関が経営破綻し、2008年には〔⑧〕を発端とした世界的な金融危機の引き金になった。以上のように、アメリカで始まった金融危機は日本にも大打撃を与え、株価が暴落した。2008年10月末、日経平均株価は26年ぶりの安値水準を記録した。

第 15 問 次の【問題文】を読んで、あなたの自身の「アクションプラン全体の評価」と「今後どのような変化が起きるのかについての予測」を書け（300 字～400 字）。

【問題文】「鈴木市長初の本格予算、人口減対策に重点 過去最大規模 長崎市」  
朝日新聞デジタル記事(2024 年 2 月 15 日)

長崎市は 14 日、2024 年度一般会計当初予算案を発表した。昨年就任した鈴木史朗市長が初めて編成する本格予算。人口減少対策を念頭に重点プロジェクトを策定し、関連施策に重点配分する。総額 2310 億 5 千万円で前年度比 5・6%増と、過去最大規模となった。

「非常に厳しい財政状況の中で必要な分野についてはギリギリの線で最大限（予算を）つけた」。鈴木氏はこの日の会見でこう強調した。

鈴木氏は予算編成に際して三つの重点プロジェクト「少子化対策」「経済再生」「新市役所創造」におけるアクションプランを策定。関連事業に計 31 億 6 千万円を計上した。「全国的に見て速度の速い、市の人口減少スピードをまずは鈍化させたい」と説明した。

「少子化対策」には総額 11 億円を計上。市長選で公約に掲げた第 2 子以降の保育料無償化に 3 億 5 千万円をあてた。鈴木氏は「(財政が厳しい中) 苦渋の決断でもあった」としつつ、「子育て世帯を支えるという市の思いを発信する意味でも意義がある」と強調した。

「経済再生」では 17 億 9 千万円を計上した。人手不足対策として、バン格拉デシュの高度 IT 人材の受け入れ支援など、人材雇用促進費に 1 千万円。交流拡大として、来年の大阪・関西万博を見据えたインバウンドの受け入れ拡大や、海外リモートワーカーのワーケーション受け入れ拡大に 1 千万円などを盛り込んだ。

こうした施策を推進するための基盤作りとしての「新市役所創造」には 2 億 5 千万円を計上した。業務効率化のためのデジタル化推進費も含まれている。

今回、予算規模が拡大した要因の一つは、新市庁舎など大型建設事業にあてる公債費。「長崎スタジアムシティ」（同市幸町）の整備が終盤を迎えることなどから、普通建設事業費は前年度比で約 10 億円減ったが、公債費は新年度にピークを迎える。前年度比 17 億 9 千万円増の 271 億円を計上した。

財源不足を補うため、貯金にあたる財政調整基金と市債返済のために積み立てた減債基金、計 91 億 3 千万を取り崩す。市債残高は 24 年度末で 2596 億 6 千万円で、23 年度当初予算と比較すると減少する見通し。



歳入では、市税収入が 550 億 4 千万円。前年度より 1 億 2 千万円増え、3 年連続増。長崎駅周辺地区の地価上昇などの影響という。国が本来交付すべき財源を補うために発行する臨時財政対策債は前年度比 45・4%減の 11 億 7 千万円。

市は 21 日開会の市議会に提案する。(寺島笑花)

#### 主な新規事業

##### 【少子化対策】

◆第 2 子以降の保育料の無償化 (3 億 5729 万円)

◆学びの多様化を促進 (106 万円)

不登校など子どもたちのニーズに応じた学びの場を提供する、新たな学校開設を検討

◆教育の ICT 化を推進 (1126 万円)

学力向上に向けた AI 型ドリル教材を活用。保護者への連絡のデジタル化を促進

##### 【経済再生】

◆多様な人材雇用を促進 (1312 万円)

バングラデシュの IT 人材について、県や長崎大学と連携。企業とのマッチングなどを実施し、採用にかかる経費の一部を補助

◆リーディング企業の成長支援 (2 億 1 千万円)

業界をリードする企業の事業拡大や、中小企業の新事業展開などを支援し、競争力強化を図る

##### 【新市役所創造】

◆自治会のデジタル化を支援 (463 万円)

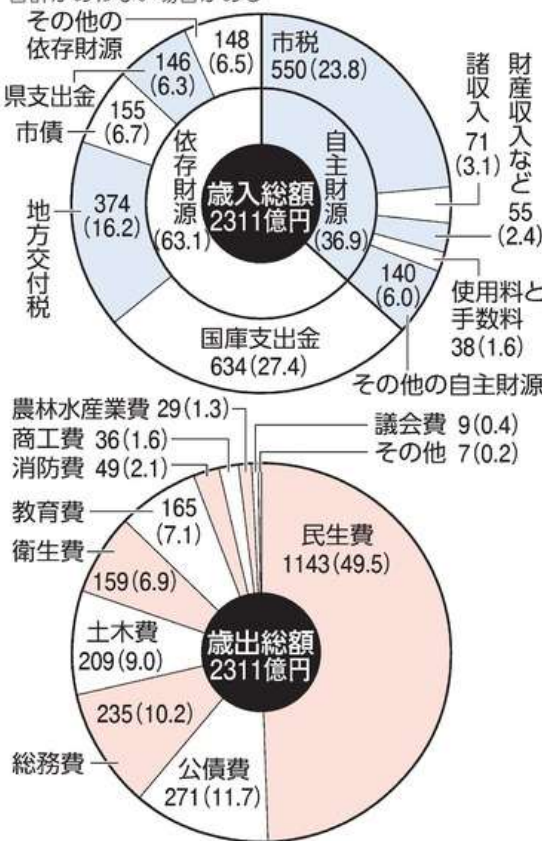
電子回覧板などの機能を備えた地域交流アプリを導入し、自治会のデジタル化を進めるモデル事業を実施

◆ふるさと納税を活用した地域の活性化促進 (1009 万円)

自治会や地域団体の取り組みの資金調達に、クラウドファンディング型ふるさと納税を活用し、寄付額に応じて補助金を交付

#### 2024年度 長崎市一般会計当初予算案

数字は億円、カッコ内は構成比%。金額は1億円未満を、比率は小数点2位をそれぞれ四捨五入しているため、合計があわない場合がある



# 数学（数学Ⅰ・数学Ⅱ）

注意

- 1. 指示があるまで表紙を開くことはできません。
- 2. 開始の指示があったら、問題冊子と解答用紙に、受験番号と名前を記入してください。
- 3. 解答はすべて解答用紙に記入してください。
- 4. 試験終了後、問題冊子と解答用紙を回収します。

受験番号		氏 名	
------	--	-----	--

問題1

次の二次方程式を解の公式を用いて解け. (7 点)

$$x^2 - 4x - 5 = 0$$

問題2

次の式を展開せよ. (7 点)

$$(x + 3)(x - 5)(x^2 - 3x + 9)(x^2 + 5x + 25)$$

問題3

次の方程式を解け. (9 点)

$$||x - 2| - 6| = 1$$

問題4

△ABC において,  $AB = 7$ ,  $BC = 9$ ,  $CA = 5$  のとき, 角 B の余弦  $\cos B$  を求めよ.  
(10 点)

問題5

全体集合を  $U = \{1, 2, 3, 4, 5, 6, 7, 8, 9, 10, 11, 12\}$  とする.

集合  $A = \{2, 4, 6, 8, 10\}$ , 集合  $B = \{4, 6, 8, 12\}$  について, 以下の問いに答えよ.

(1)  $A \cup B$  を求めよ. (5 点)

(2)  $A \cap B$  を求めよ. (5 点)

(3)  $\overline{A} \cap B$  を求めよ. (5 点)

問題6

ある袋に赤, 青, 黄のボールがそれぞれ 4 個, 3 個, 2 個入っている. この袋からボールを 2 個連続して取り出す時, 1 個目の赤いボールが出て, 2 個目に青いボールが出る確率を求めよ. (10 点)

問題7

以下の問いに答えよ.

表 1 は 2014 年から 2023 年までの北西太平洋地域での台風の発生個数である.

表 1 : 台風の発生個数

発生年	2014	2015	2016	2017	2018	2019	2020	2021	2022	2023
発生個数	23	27	26	27	29	29	25	22	25	17

- (1) 2014 年から 2023 年までの台風の発生個数の平均値を求めよ．必要であれば，小数点以下第 2 位を四捨五入せよ．（7 点）
- (2) 2014 年から 2023 年までの台風の発生個数の中央値を求めよ．必要であれば，小数点以下第 2 位を四捨五入せよ．（7 点）
- (3) 2014 年から 2023 年までの台風の発生個数の最頻値を求めよ．必要であれば，小数点以下第 2 位を四捨五入せよ．（7 点）
- (4) 2014 年から 2023 年までの台風の発生個数の分散を求めよ．必要であれば，小数点以下第 2 位を四捨五入せよ．（7 点）
- (5) 表 2 は 1951 年から 1965 年までの北西太平洋地域で発生した台風の発生個数である．

表 2：1951 年から 1965 年までの台風の発生個数

発生年	1951	1952	1953	1954	1955	1956	1957	1958	1959	1960	1961	1962	1963	1964	1965
発生個数	21	27	23	21	28	23	22	31	23	27	29	30	24	34	32

1970 年代の終わり頃から地球温暖化に関する科学者の報告が活発に行われるようになった．また，1988 年に気候変動に関する政府間パネル（IPCC）が設立された．これ以降，人間の活動が地球温暖化の原因であるとの主張が世界的に広まっていった．

産業革命以降，地球温暖化が徐々に進んでいると主張する人たちがいる．表 1 と表 2 を使って地球温暖化と台風の発生個数との関係性についてのあなたの分析を述べよ．（7 点）

- (6) 表 3 は 1951 年から 2023 年までの北西太平洋地域で発生した台風の最低気圧のトップ 15 を示したものである．最低気圧は数値が小さいほど強い台風を意味する．

表 3：1951 年から 2023 年までの最低気圧トップ 15

順位	1	2	3	4	5	6	7	8	9	10	11	12	13	14	15
発生年	1979	1973	1975	1958	1966	1978	1984	1953	1959	1971	1983	2010	1951	1954	1961
最低気圧(hPa)	870	875	875	877	880	880	880	885	885	885	885	885	886	890	890

地球温暖化が進むと海水温が上昇してより強い台風が発生するという主張がある．表 3 を使って地球温暖化と台風の強さの関係性についてのあなたの分析を述べよ．（7 点）